

DAV PUBLIC PRIMARY SCHOOL
DARYA GANJ, DELHI



CLASS II

SUMMER

HOLIDAY HOMEWORK

*Summer is here! Let's make the most of
every sun soaked moment.*



DAV PUBLIC PRIMARY SCHOOL
DARYA GANJ, DELHI



MATHEMATICS





Q1. Write the following numbers in ascending/increasing order.

i. 48, 75, 32, 68, 48, 58

ii. 72, 84, 43, 100, 32, 99

Q2. Write in decreasing order.

i. 92, 48, 85, 62, 39, 100

ii. 14, 98, 76, 85, 45, 68

Q3. Look at the numbers carefully and add $>$ or $<$ sign appropriately in the blank space.

i. $60+7$ _____ 48

ii. $33+1$ _____ 27

iii. $46+2$ _____ 53

iv. 88 _____ $82-2$

v. 74 _____ 99

vi. $11+4$ _____ $6+11$

Q4. Learn tables of 2 to 12 and write them in your rough notebook.





Addition with Regrouping

The sum

$$\begin{array}{r} 132 \\ + 800 \\ \hline \end{array}$$

$$\begin{array}{r} 522 \\ + 169 \\ \hline \end{array}$$

$$\begin{array}{r} 301 \\ + 276 \\ \hline \end{array}$$

$$\begin{array}{r} 503 \\ + 457 \\ \hline \end{array}$$

$$\begin{array}{r} 286 \\ + 491 \\ \hline \end{array}$$

$$\begin{array}{r} 331 \\ + 285 \\ \hline \end{array}$$

$$\begin{array}{r} 257 \\ + 702 \\ \hline \end{array}$$

$$\begin{array}{r} 218 \\ + 194 \\ \hline \end{array}$$

$$\begin{array}{r} 350 \\ + 466 \\ \hline \end{array}$$

$$\begin{array}{r} 242 \\ + 275 \\ \hline \end{array}$$

$$\begin{array}{r} 511 \\ + 142 \\ \hline \end{array}$$

$$\begin{array}{r} 479 \\ + 106 \\ \hline \end{array}$$

$$\begin{array}{r} 372 \\ + 210 \\ \hline \end{array}$$

$$\begin{array}{r} 538 \\ + 207 \\ \hline \end{array}$$

$$\begin{array}{r} 218 \\ + 111 \\ \hline \end{array}$$

$$\begin{array}{r} 419 \\ + 282 \\ \hline \end{array}$$

$$\begin{array}{r} 104 \\ + 610 \\ \hline \end{array}$$

$$\begin{array}{r} 181 \\ + 220 \\ \hline \end{array}$$

$$\begin{array}{r} 555 \\ + 251 \\ \hline \end{array}$$

$$\begin{array}{r} 208 \\ + 407 \\ \hline \end{array}$$

$$\begin{array}{r} 370 \\ + 490 \\ \hline \end{array}$$


$$\begin{array}{r} 670 \\ + 248 \\ \hline \end{array}$$

$$\begin{array}{r} 112 \\ + 467 \\ \hline \end{array}$$

$$\begin{array}{r} 500 \\ + 371 \\ \hline \end{array}$$

$$\begin{array}{r} 556 \\ + 189 \\ \hline \end{array}$$

12/18



Find the difference in the following numbers.

$\begin{array}{r} 704 \\ -256 \\ \hline 448 \end{array}$	$\begin{array}{r} 341 \\ -163 \\ \hline \end{array}$	$\begin{array}{r} 635 \\ -247 \\ \hline \end{array}$
$\begin{array}{r} 607 \\ -379 \\ \hline \end{array}$	$\begin{array}{r} 803 \\ -456 \\ \hline \end{array}$	$\begin{array}{r} 904 \\ -495 \\ \hline \end{array}$
$\begin{array}{r} 510 \\ -373 \\ \hline \end{array}$	$\begin{array}{r} 531 \\ -367 \\ \hline \end{array}$	$\begin{array}{r} 962 \\ -389 \\ \hline \end{array}$
$\begin{array}{r} 745 \\ -467 \\ \hline \end{array}$	$\begin{array}{r} 823 \\ -645 \\ \hline \end{array}$	$\begin{array}{r} 555 \\ -487 \\ \hline \end{array}$
$\begin{array}{r} 410 \\ -362 \\ \hline \end{array}$	$\begin{array}{r} 926 \\ -895 \\ \hline \end{array}$	$\begin{array}{r} 568 \\ -129 \\ \hline \end{array}$

Q3. Identify the place value of the underlined digit in each of the given numbers.

154 _____

447 _____

345 _____


897 _____

647 _____

254 _____

541 _____

347 _____



542 _____154 _____

WORKSHEET

Q8. Find the missing numbers.

i. $677 - \underline{\hspace{2cm}} = 675$

ii. $855 - \underline{\hspace{2cm}} = 855$

iii. $\underline{\hspace{2cm}} - 1 = 998$

iv. $655 + \underline{\hspace{2cm}} = 655$

v. $200 + 50 = \underline{\hspace{2cm}}$

vi. $\underline{\hspace{2cm}} - 244 = 0$

Q9. Write the following numbers in words.

i. 78 _____

ii. 52 _____

iii. 502 _____

iv. 798 _____

v. 105 _____



DAV PUBLIC PRIMARY SCHOOL
DARYA GANJ, DELHI

E.V.S





V.S Holiday Homework

Roll No – 1 to 10 First aid box

Roll No - 11 to 14 Our Food – Healthy and Unhealthy Collage

Roll No - 15 to 17 A.Tent House

Roll No - 18 to 20 House Boat

Roll No - 21 to 23 Hut

Roll No -24 to 26 Igloo

Roll No - 15 to 26 Model House

Roll No - 27 to 30 I My Ideal Neighborhood poster

Roll No - 31 to 35 Different plant leaves around us simple and identification poster

Roll No - 36 to 37 Land Animals

Roll No - 38 to 39 Domestic Animals

Roll No - 40 to 41 Wild Animals

Roll No - 42 to 43 Water Animals

Roll No 36 to 43 Model Animals

Roll No - 44 to 45 Land Transport

Roll No - 46 to 47 Water Transport

Roll No - 48 to 49 Air Transport

Roll No - 44 to 49 Model Transport

Roll No - 50 to 51 Traffic Rules Poster

Note - Students will have to pretest their Projects in the class with introduction and explanation (Marks 10)



DAV PUBLIC PRIMARY SCHOOL
DARYA GANJ, DELHI





COMPUTERS







Write the names of the objects given below.























Activity 1 :

Collect pictures of different parts of Computer - Keyboard, Mouse, CPU, Printer etc. and paste it in your scarp book.

Activity 2 :

Diagram: Draw the parts of computer and label it on A3 size sheet.



DAV PUBLIC PRIMARY SCHOOL
DARYA GANJ, DELHI

हिंदी





हिंदी (खंड- क)

प्रश्न.1 नीचे दिए गए गद्यांश को पढ़कर निम्न प्रश्नों के उत्तर दीजिए:-

पम्पा नगर में एक बुद्धिमान व्यक्ति रहता था। उसका नाम कमल था। उस नगर में एक बन्दर आ गया था बंदर बहुत शरारती था। वह नगर के लोगों को परेशान करता था। वह लोगों के कपड़े, बर्तन, खाना आदि ले कर भाग जाता था। सोहन ने बन्दर को सबक सिखाने की सोची।



दिए गए गद्यांश को पढ़कर पूछे गए प्रश्नों के उत्तर लिखिए:-

प्रश्न.1 पम्पा नगर में कौन बुद्धिमान व्यक्ति रहता था ?

उत्तर: _____

प्रश्न.2 पम्पा नगर में कौन आ गया ?

उत्तर: _____

प्रश्न.3 बंदर क्या लेकर भाग जाता था ?

उत्तर: _____

प्रश्न.4 दिए गए गद्यांश में से नीचे दी गई मात्रा के कोई दो दो शब्द लिखिए

उत्तर:

इ _____


ए _____



2 नीचे दिए गए चित्र को देखकर पांच पंक्तियाँ लिखिए:-



प्रश्न.3 मेरा विद्यालय विषय पर पांच पंक्तियाँ लिखिए:-



प्रश्न.4 निम्नलिखित शब्दों के समानार्थी शब्द लिखिए :

दुनिया

किताब

बाग

खाना

घर

बादल

प्रश्न.5 निम्नलिखित शब्दों के समान तुक वाले शब्द लिखिए :-

जैसा

दानव

घर

कवि

पानी

प्रश्न.6 निम्नलिखित शब्दों को शुद्ध करके लिखिए :-

महातमा

उपदेस

नमर

रम

व्यापरी





उल्टा

आगे

आना

पाप

इधर



प्रश्न.8 :- निम्नलिखित शब्दों के बहुवचन रूप लिखिए :-

लड़का

जूता

केला

रात

कपड़ा

पौधा

प्रश्न.9 निम्नलिखित वाक्यों में संज्ञा शब्दों को रेखांकित कीजिए :-

क) बगीचे में हरियाली है।

ख) राजा बैठा है।

ग) राधा सुंदर गाती है।

घ) तितली उड़ गई।

ङ) यह मेज सुंदर है।

